



Nível: A1

Hora e um quarto; hora e meia...

1. Lê a informação abaixo.

São três horas.
São três.
São três certas.



É uma hora.
É uma da tarde.
É uma da manhã.



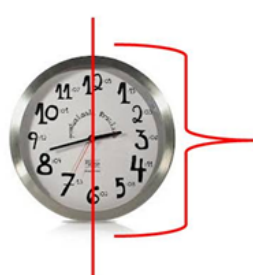
HORAS
CERTAS

um quarto (de hora)



15 MINUTOS

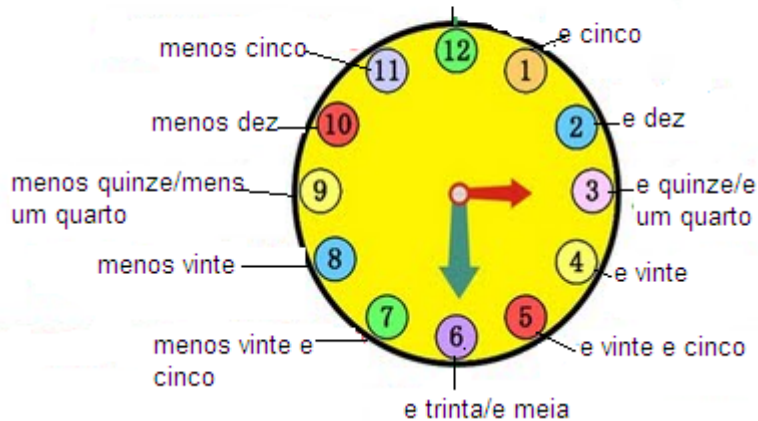
meia (hora)



30 MINUTOS

JRSOS
o Português
cursoslp.com

em ponto





2. Que horas são?




1. _____



2. _____



3. _____



4. _____



5. _____

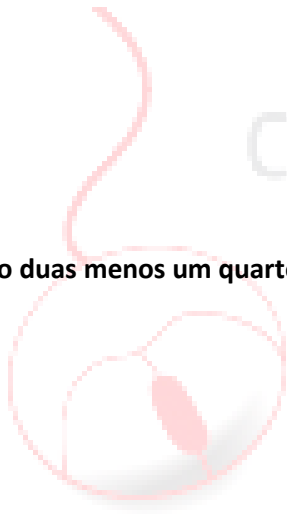


3. Desenha os relógios correspondentes.

1. São quatro e meia.

2. São sete menos um quarto.

3. São duas menos um quarto.



Ciber **Cursos**

da Língua Portuguesa

www.cibercursoslp.com

4. São duas e um quarto

5. São oito e meia.

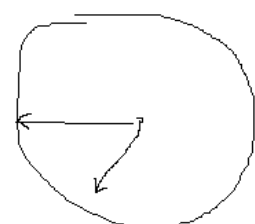


Soluções: 2. 1) São três e meia. 2) É uma hora. 3) São cinco menos um quarto. 4) São duas e um quarto. 5) São oito e meia.

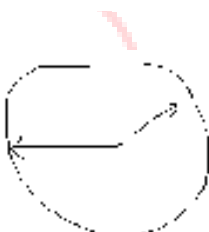
3.



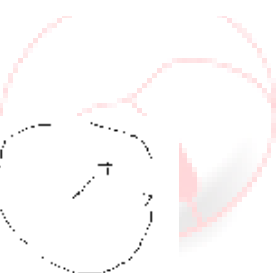
3.1.



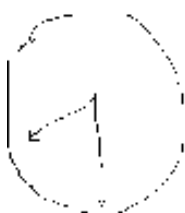
3.2.



3.3.



3.4.



3.5.

Ciber **Cursos**
da Língua Portuguesa